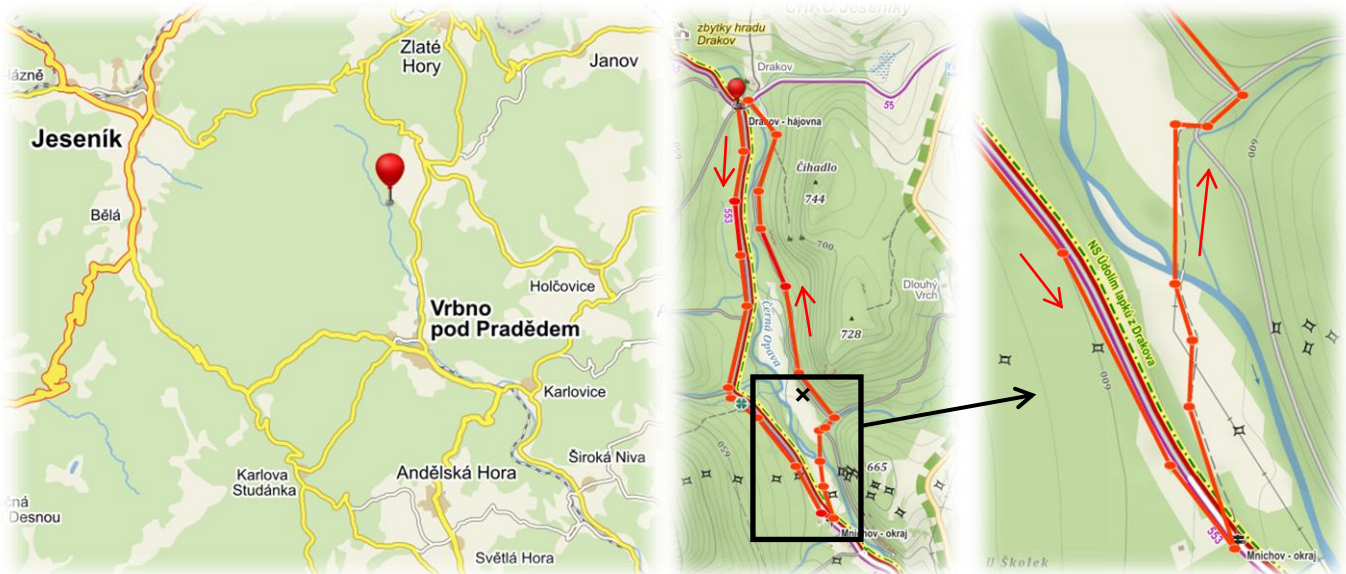


6. Cestičkou

za lapky a hamerníky údolím Drakova



Příjemná lesní procházka okolím osady Drakov s možností letního koupání



Délka trasy: 5,8 km celkem



- Start na lesním parkovišti na Drakově (kam se dostanete odbočením ze silnice vedoucí z **Vrbna pod Pradědem do Heřmanovic**)
- Cestička navazuje na hezky zpracovanou naučnou stezku **Údolím Lapků z Drakova**




- Pozůstatky někdejšího Josefského hamru
- Horskou říčku Černou Opavu s chladivou a křišťálově čistou vodou
- Několik, v přírodě důmyslně ukrytých, řopíků (bunkrů)
- Krásný les se spoustou lesních jahod a malin



- Na výborného pstruha se z Drakova určitě stavte do vyhlášené **rybářské bašty v Mníchově** (část Vrbna p. P.) (otevřeno v červnu o víkendech a v červenci a srpnu každý den kromě pondělí)
- V půli Cestičky (na okraji Mníchova, u autobusové zastávky) se můžete občerstvit v hospůdce **Sněženka**
- Ve Vrbně pak můžete zajít na oběd i do penzionu **U Hradilů** (směr kostel a dále nahoru do kopce, pod sjezdovkou), děti určitě ocení hezké venkovní hřiště s nádherným výhledem do údolí
- Okolí Drakova je bohaté na borůvky, podél cesty roste i spousta malin a lesních jahod

Správné odpovědi ke kvízu: 1)c, 2)b, 3)a, 4)b, 5)b

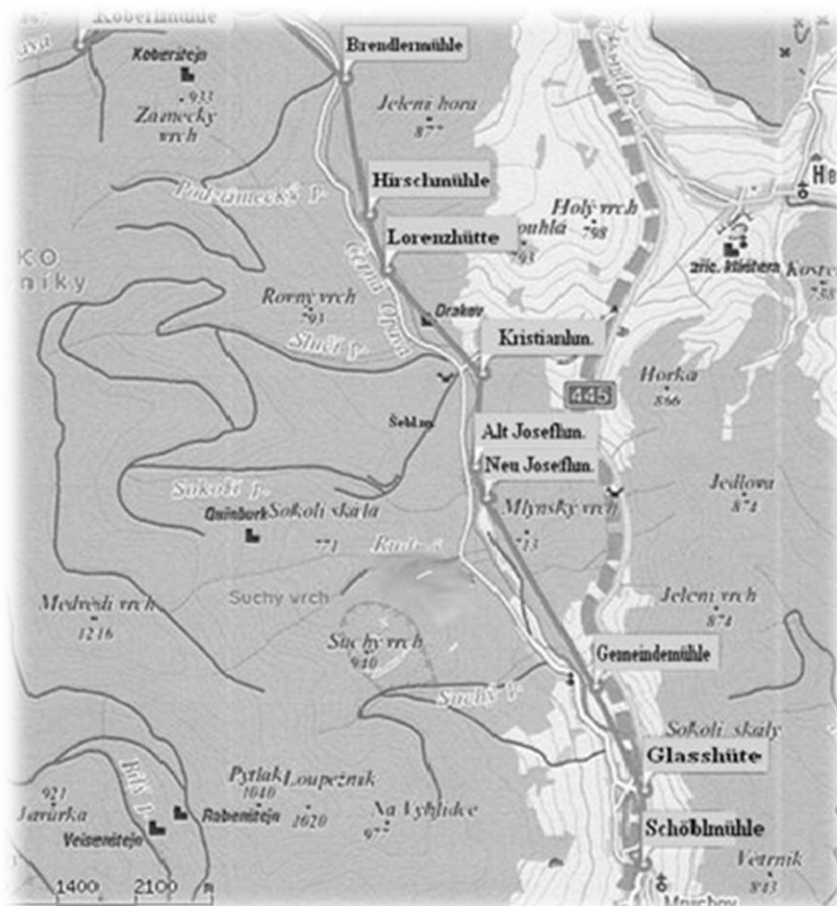
Kudy kam:

- ✓ z parkoviště na Drakově se vydejte po červené turistické značce  přes zastavení naučné stezky *U drakovského buku* až **na okraj Mnichova** (městská část Vrbna p. P.)
- ✓ jakmile vyjdete z lesa a dorazíte k prvním chalupám v Mnichově, tak po cca 300m natrefíte po pravé straně na hospůdku Sněženka
- ✓ odtud se vydejte **zpět směr Drakov**, ale za značkou upozorňující na konec obce odbočte na **luční pěšinu vpravo** (je třeba podlézt/obejít závoru)
- ✓ dorazíte k mostu přes řeku – úžasnému místu na osvěžení ☺
- ✓ od mostu běžte ještě několik desítek metrů a pak odbočte vpravo a napojte se na lesní cestu, po které už dojdete až zpět na Drakov
- ✓ cestou si můžete všimnout zbytků Josefského hamru, najdete jej po levé straně, kousek pod lesní cestou (viz. křížek „x“ v mapce na první stránce)



Další tipy v okolí:

- **Borůvky** – od parkoviště na Drakově se vydejte pěšky na opačnou stranu, než vede tato cestička (směr Rejvíz), v lesích na obou stranách cesty jsou jich spousty
- **Lorenzova – Vavřincova huť** – pozůstatky dřevouhelné vysoké pece – technická památka (cca 1 km od parkoviště na Drakově ve směru Rejvíz)
- **Zříceniny hradů v okolních lesích** (viz. mapk a níže)



Věděli jste, že Hamr...

- ❖ má původ v německém slově *Hammer* - kladivo
- ❖ je metalurgická a kovářská dílna, která je vybavena kovacím strojem poháněným vodním kolem.
- ❖ je výraz používaný jak pro budovu, tak i pro její hlavní zařízení - strojně poháněné kladivo



kladivo – buchar


- ulehčovalo a urychlovalo namáhavou kovářskou práci a proti ručnímu kování umožňovalo zpracovat i větší kusy železa.
- bylo též nazýváno „kobyła“ *Uhodnete proč? ☺*

- ❖ Historie tohoto způsobu pohonu je na vrbenku stará více jak 500 let.

Zde byla za pomoci vodních kol poháněna důlní čerpadla, drtiče rud, dmychadla tavicích pecí, stroje v prvních továrnách, mlýny aj..

Nešlo však jen o vodní motory a kola samotná ...

- ❖ k nim bylo nutné zbudovat také náhony (troky) se soustavami jezů, stavidel, kanálů a akvaduktů, které přiváděly vodu ke kolům až z několikakilometrové vzdálenosti.
- ❖ Vody musel být dostatek, protože kola mívala velikost až 25 m v průměru.



*Což je stejná výška, jakou má nedaleká rozhledna
Hraniční vrch u Města Albrechtic!*



MALÝ KVÍZ, JAK POZORNÍ JSTE CESTOU BYLI

- 1) Jak se jmenoval moravský strážní hrad, ležící nad Drakovem na hranici s tehdejší Polskem?
a) Drachenburg b) Kobrštejn c) Quinburg
- 2) Podle čeho získala své jméno středověká celnice Drachenburg, která stávala na skále nad řekou kousek od osady Drakov?
a) podle pověsti o dracích, kteří zde před staletími údajně pobývali b) podle krutosti zdejších celníků
c) odvozením od německého slova *Drachen* (dračinec) - byliny, která se zde hojně vyskytuje
- 3) Který druh stromu byl pro zdejší lesy kdysi typický?
a) buk b) smrk c) jírovec maďal
- 4) Jak se jmenuje říčka, kterou jste dnes alespoň 2x přecházeli?
a) Zlatá Opava b) Černá Opava c) Bílá Opava
- 5) Co se těžilo a zpracovávalo v dnes již zaniklé osadě Josefský hamr, jejíž pozůstatky jste mohli cestou vidět?
a) zlato b) železo c) jíly a pískovec

Správnost svých odpovědí si můžete ověřit na první stránce ©